

# Varm opp vann i hageslanger

Starttemperaturen på det kalde vannet var:

## Hypotese

I hvilken slange tror du det vil bli varmest vann?


Rangerer dem fra høyeste temperatur til laveste temperatur.

## Oppgave

Etter 1 time: Fyll forsiktig ett og ett litermål med vann fra de ulike slangene.

Mål temperaturen på vannet i de ulike slangene.

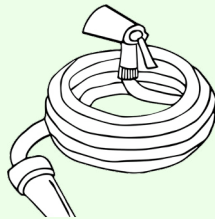
1



Etter 1 time var  
temperaturen på vannet  
i denne slangen:

grader

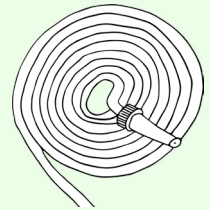
2



Etter 1 time var  
temperaturen på vannet  
i denne slangen:

grader

3



Etter 1 time var  
temperaturen på vannet  
i denne slangen:

grader

Dette har jeg funnet ut

